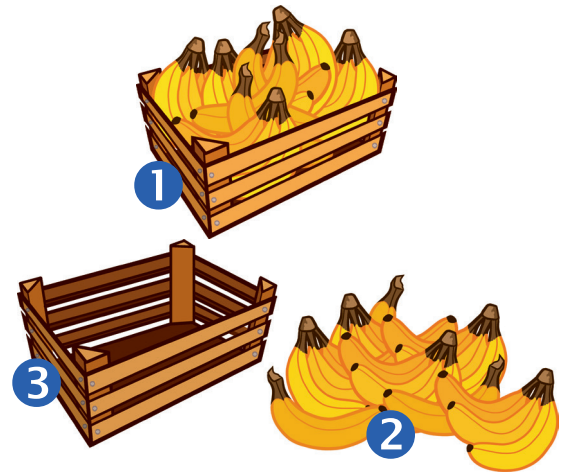


1 Wat is **bruto**? Wat is **tarra**? Wat is **netto**?  
Noteer naast het juiste cijfer.

- 1 bruto
- 2 netto
- 3 tarra




2 Vul de tabel aan.

	bruto	tarra	netto
een bakje aardbeien	<u>350 g</u>	200 g	150 g
een volgeladen marktkraam	6 500 kg	<u>1 500 kg</u>	5 ton
een kist peren	62 kg	8 kg	<u>54 kg</u>
een fles vers geperst fruitsap	840 g	<u>90 g</u>	750 g




3 Lees goed, volg de stappen en los op.

Een volle pot confituur weegt 750 gram. De lege pot weegt 150 gram.

- V** Hoeveel confituur zit er in die pot?
- B** formule: bruto = tarra + netto → bruto – tarra = netto
- 750 gram – 150 gram = 600 gram
- A** Er zit 600 gram confituur in de pot. 



Een gevulde kist met tomaten weegt 42,8 kg. De kist zelf weegt 5,2 kg.

- V** Bereken het ontbrekende gewicht in kilogram en vul aan.
- B** bruto (B) – tarra (T) = netto (N)                      42,8 kg – 5,2 kg = 37,6 kg
- A** B = 42,8 kg                      T = 5,2 kg                      N = 37,6 kg 

#### 4 Kijk en lees goed. Bereken en vul aan.

De lege vrachtwagen weegt 4 150 kg.

Met deze lege vrachtwagen kan men ten hoogste

5 000 kg vervoeren.

Dat is het netto -gewicht.

Een volgeladen vrachtwagen weegt dan 9 150 kg.

Dat is het bruto -gewicht.

Dit is 850 kg minder dan 10 ton of ruim 9 ton.



Een vrachtwagen is geladen met kisten fruit. De helft van de kisten bevatten appels en de andere helft kiwi's. Bij zijn vertrek rijdt de chauffeur over een weegbrug. Die duidt 4 525 kg aan. Op de zijkant van de vrachtwagen staat 'gewicht voertuig: 2 820 kg'. Vul in.

bruto: 4 525 kg      tarra: 2 820 kg      netto: 1 705 kg



Een vrachtwagen weegt leeg 3 750 kg. De vrachtwagen vervoert 30 koelkasten. Elke koelkast weegt 42 kg en is verpakt in een doos van 3 kg.

**V** Zoek het brutogewicht van de geladen vrachtwagen.

**B** 1 koelkast → 42 kg + 3 kg = 45 kg      30 koelkasten → 30 x 45 kg = 1 350 kg

netto + tarra = bruto      1 350 kg + 3 750 kg = 5 100 kg

**A** Het brutogewicht van de geladen vrachtwagen bedraagt 5 100 kg. 

#### 5 Vul in: juist of fout?

Het brutogewicht is altijd groter dan het nettogewicht. juist

Het nettogewicht is altijd groter dan het tarragewicht. fout

Het tarragewicht verandert als er niets in de verpakking zit. fout

brutogewicht = tarra – netto. fout

Het nettogewicht van snoepen uit een doos kun je berekenen als je het gewicht van de doos aftrekt van het totale gewicht. juist