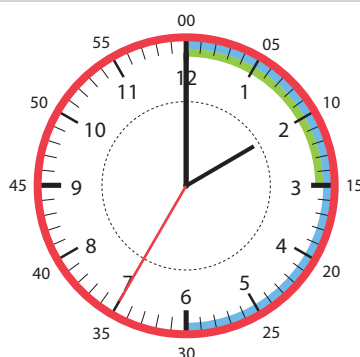


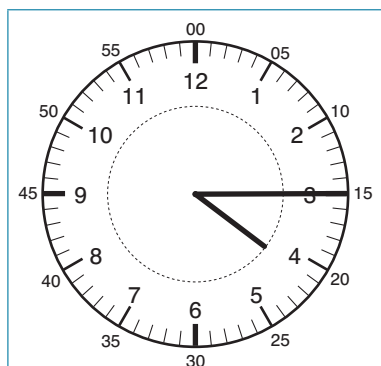
Klokkelezen

- 1 uur** = 60 minuten
= 2 keer een half uur
= 4 keer een kwartier
- 1 half uur** = 30 minuten
= 2 keer een kwartier
- 1 kwartier** = 15 minuten

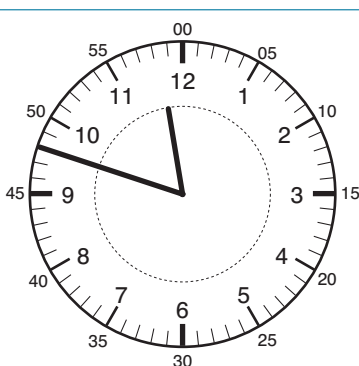


De analoge klok aflezen

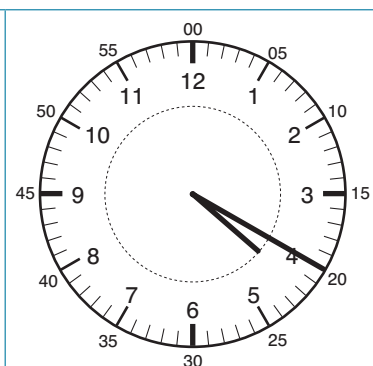
- 1 Staat de **grote wijzer** in het veld 'over' of in het veld 'voor'?
- 2 Hoeveel minuten staat de grote wijzer 'over' of 'voor' het uur?
- 3 Nu kijken we naar de **kleine wijzer**: welk uur is er net voorbij of moet nog komen?



kwart over 4



12 voor 12



**20 over 4
10 voor half 5**

Kijk goed of de grote wijzer bij VOOR of OVER staat.
 Grote wijzer → minuten
 Kleine wijzer → uren
 Je kan kiezen: 20 over 4 of 10 voor half 5.

